



## 第2单元检测卷

(时间:45分钟 满分:100分)

### 一、比一比,看谁先到家。(每空1分,共15分)

$12-9=$   
 $15-8=$   
 $13-4=$   
 $17-8=$   
 $15-6=$

$13-5=$   
 $15-9=$   
 $14-7=$   
 $11-2=$   
 $16-8=$

$11-6=$   
 $12-3=$   
 $13-6=$   
 $15-7=$   
 $11-4=$

### 二、连一连。(10分)

⑨      ⑦      ⑥      ⑧

### 三、填一填。(共22分)

1. (9分) 请在 里填上合适的数。

$3 + \text{house} = 12$        $8 + \text{house} = 15$        $7 + \text{house} = 11$   
 $13 - 4 = \text{house}$        $12 - \text{house} = 8$        $15 - \text{house} = 7$   
 $6 + \text{house} = 14$        $9 + \text{house} = 12$        $4 + \text{house} = 12$

2. (9分) 会飘向哪边?  $>$   $=$   $<$

$15-7$   $9$        $13-5$   $8$        $12-6$   $7$   
 $11-3$   $8$        $12-4$   $7$        $14-9$   $6$   
 $17-8$   $8$        $11-5$   $7$        $13-7$   $6$


3. (4分) 玩具商店玩具出售情况如下。

原有	11个	16个	13架	15辆
卖出	8个	7个	4架	9辆
还剩	( )个	( )个	( )架	( )辆

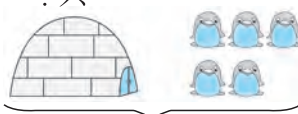
# 四、我会算。(每空 1 分,共 9 分)

13-4-5=	17-8-8=	9+3+2=
7+8-9=	12+4-7=	16-7+4=
12-3+6=	15-7+5=	13-5-3=


# 五、看图列式计算。(每题 3 分,共 12 分)

1.  ? 个  
15 个

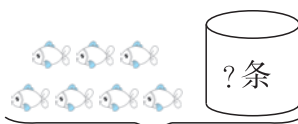
$$\square \bigcirc \square = \square ( )$$

2. ? 只  
  
13 只

$$\square \bigcirc \square = \square ( )$$

3.   
11 个

$$\square \bigcirc \square = \square ( )$$

4.   
15 条

$$\square \bigcirc \square = \square ( )$$

# 六、解决问题。(共 32 分)

1. (8 分)合唱队一共有 15 人,站成两排。



(1)前排站 8 人,后排站几人?  $\square \bigcirc \square = \square ( )$

(2)女生有 9 人,男生有几人?  $\square \bigcirc \square = \square ( )$

2. (6 分)

这本书有 18 页,我今天看了 14 页。

我今天看了 9 页。



宁宁



小新

小新今天比宁宁少看了几页?  $\square \bigcirc \square = \square ( )$

3. (6 分)

一共有 13 只猴,摘了 17 个桃子。



地上有 7 只猴。

树上有几只猴?  $\square \bigcirc \square = \square ( )$

4. (12 分)下面是动物园里的一些动物数量。

		
2 只	11 只	4 只

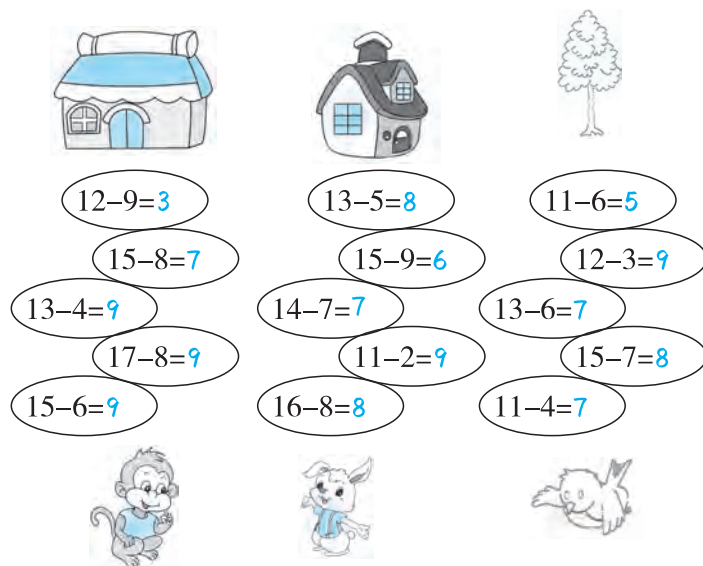
(1)斑马比老虎多几只?

(2)你还能提出其他数学问题并解答吗?

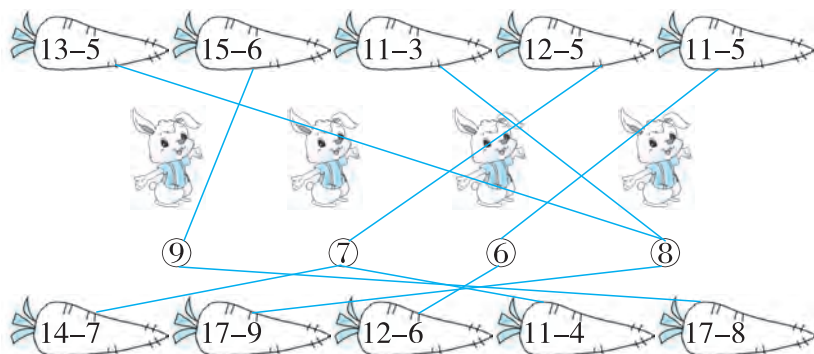
## 第2单元检测卷

(时间:45分钟 满分:100分)

### 一、比一比,看谁先到家。(每空1分,共15分)




### 二、连一连。(10分)



家长签字:

教师评语:

### 三、填一填。(共22分)

1. (9分) 请在  里填上合适的数。

$$3 + \text{9} = 12$$

$$8 + \text{7} = 15$$

$$7 + \text{4} = 11$$

$$13 - 4 = \text{9}$$

$$12 - \text{4} = 8$$

$$15 - \text{8} = 7$$

$$6 + \text{8} = 14$$

$$9 + \text{3} = 12$$

$$4 + \text{8} = 12$$

2. (9分)  会飘向哪边?   

$$15 - 7 < 9$$

$$13 - 5 = 8$$

$$12 - 6 < 7$$

$$11 - 3 = 8$$

$$12 - 4 > 7$$





$$14 - 9 < 6$$

$$17 - 8 > 8$$

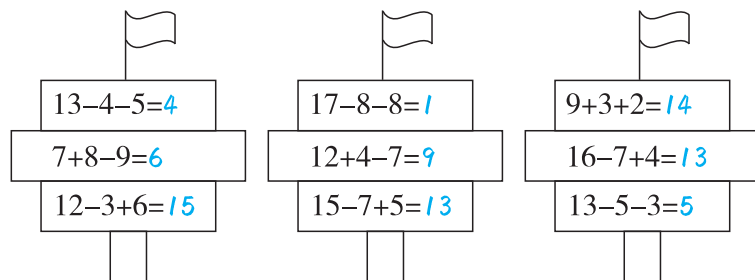
$$11 - 5 < 7$$

$$13 - 7 = 6$$

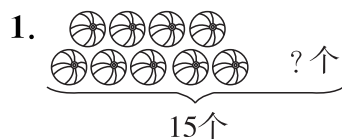
3. (4分) 玩具商店玩具出售情况如下。

				
原有	11 个	16 个	13 架	15 辆
卖出	8 个	7 个	4 架	9 辆
还剩	(3) 个	(9) 个	(9) 架	(6) 辆

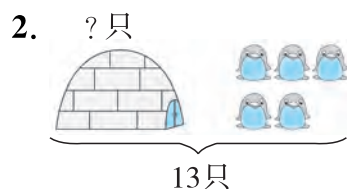
## 四、我会算。(每空 1 分,共 9 分)




## 五、看图列式计算。(每题 3 分,共 12 分)



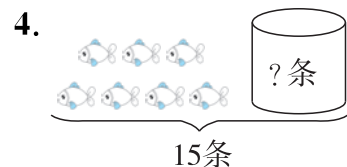
$$15 - 9 = 6 \text{ (个)}$$



$$13 - 5 = 8 \text{ (只)}$$



$$11 - 3 = 8 \text{ (个)}$$



$$15 - 7 = 8 \text{ (条)}$$

## 六、解决问题。(共 32 分)

1. (8 分)合唱队一共有 15 人,站成两排。



(1)前排站 8 人,后排站几人?  $15 - 8 = 7 \text{ (人)}$

(2)女生有 9 人,男生有几人?  $15 - 9 = 6 \text{ (人)}$

2. (6 分)

这本书有 18 页,我今天看了 14 页。

我今天看了 9 页。



小新今天比宁宁少看了几页?  $14 - 9 = 5 \text{ (页)}$

3. (6 分)

一共有 13 只猴,摘了 17 个桃子。



地上有 7 只猴。

树上有几只猴?  $13 - 7 = 6 \text{ (只)}$

4. (12 分)下面是动物园里的一些动物数量。

2 只	11 只	4 只

(1)斑马比老虎多几只?

$$11 - 2 = 9 \text{ (只)}$$

(2)你还能提出其他数学问题并解答吗?

略